



# ŠOLSKO TEKMOVANJE

27. oktober 2005

Ime ekipe oziroma tekmovalca:

---

Doseženo število točk:

---

### 1. Prestolnice Evrope so znane po svojih znamenitostih.

Prenesi številke iz levega v desni stolpec.

- |                 |              |
|-----------------|--------------|
| 1 BIG BEN       | _____ Rim    |
| 2 KOLOSEJ       | _____ Atene  |
| 3 EIFFLOV STOLP | _____ London |
| 4 AKROPOLA      | _____ Dunaj  |
| 5 PRATER        | _____ Pariz  |

5 točk

### 2. Katera jed je značilna za slovenske pokrajine?

Številke, napisane ob imenu jedi vnese v zemljevid.

1 GIBANICA



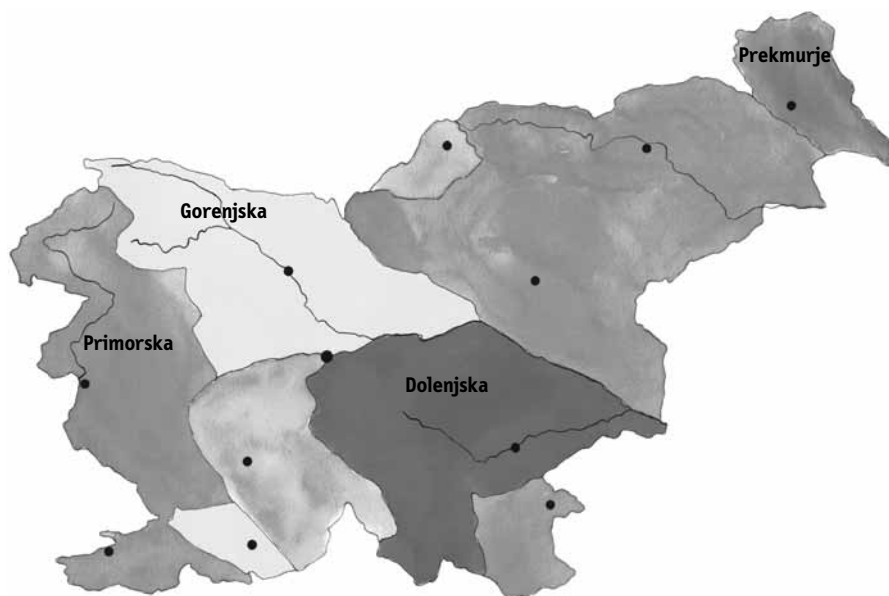
2 MLINCI



3 FIGOV KRUH



4 PLETENICA




4 točke

### 3. Obkroži pravilni vrstni red barv v mavrici.

- a) Rumena, oranžna, zelena, vijolična, črna.
- b) Rdeča, oranžna, rumena, zelena, modra, vijolična.
- c) Rdeča, oranžna, bela, zelena, vijolična.

1 točka

**4. Oglej si sliko in odgovori na zastavljeni vprašanji.**



Družina Kranjc se vozi po cesti.

a) Zapiši, kaj leži vzhodno od njihovega avtomobila.

\_\_\_\_\_

b) V risbo vriši drevo, ki bo južno od avtomobila družine Kranjc.

2 točki

**5. V kateri športni panogi se je uril Orlando Bloom, ki je igral Legolasa v Gospodarju prstanov?**

Obkroži pravilni odgovor.

- a) V sabljanju.
- b) V jahanju.
- c) V lokostrelstvu.
- č) V plezanju.

1 točka

**6. Listi katerih dreves so narisani?**

Če postaviš črke pod njimi v pravilni vrstni red, izveš.



**NGIOK**

\_\_\_\_\_



**RHSAT**

\_\_\_\_\_



**OKSAJNT**

\_\_\_\_\_



**VAJRO**

\_\_\_\_\_

4 točke

**7. Obkroži črko pred žarnico, ki bo svetila.**



a)



b)



c)



č)

1 točka

**8. 4. a razred je zelo klepetav. Zato je učiteljica Malči presedla učence vsakega v svojo klop, in sicer tako:**

Edi sedi desno od Ceneta,  
 Alenka sedi desno od Gaje,  
 ki je pred Branetom,  
 ta pa je levo od Francija.  
 Irena je pred Dušanom,  
 ki je levo od Gaje.

TABLA







HANA



Imena učencev vpiši v prazne prostore.

8 točk

**9. Poveži sopomenke.**

stokati

buljiti

čečkati

žaliti

strmeti

utemeljiti

razložiti

jamrati

zafrkavati

kracati

5 točk

**10. Kaj pomeni kratica SOS?**

Obkroži pravilni odgovor.

a) Rešite nas!

b) Pokličite me!

c) Povejte mi!

č) Pripeljite me!

1 točka

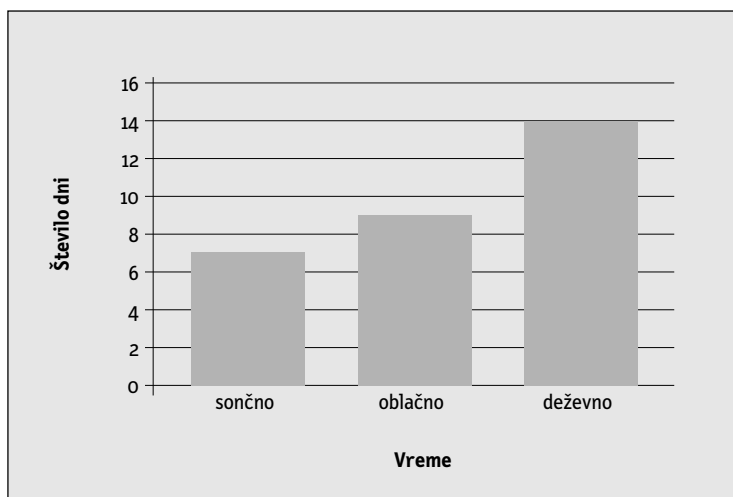
**11. Poveži ime športnika z imenom športa, v katerem tekmuje.**

Iztok Čop	tenis
Jolanda Čeplak	košarka
Aleksander Knavs	atletika
Katarina Srebotnik	veslanje
Marko Milič	nogomet

5 točk

**12. Marko je 30 dni opazoval vreme. Zbrane podatke je prikazal s stolpiči. Oglej si jih in povej, koliko dni v mesecu:**

- a) je bilo sončnih? \_\_\_\_\_  
b) ni deževalo? \_\_\_\_\_



2 točki

**13. Preberi opis osebe in ugotovi, o kom govori besedilo.**

Zelo znan rimski državnik.  
Osvojil je Galijo in Egipt.  
Uvedel je Julijanski koledar.  
Poročil se je s Kleopatro.

\_\_\_\_\_

1 točka

**14. Katera od živali na fotografijah ni riba kostnica?**

Obkroži črko pred pravo ribo.

a)




b)



c)



č)



1 točka

**15. Kateri sesalci v Evropi so najbolj ogroženi?**


Obkroži pravilni odgovor.

- a) polhi
- b) netopirji
- c) rovke
- č) medvedi

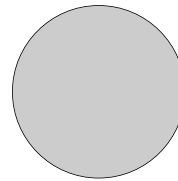
1 točka

**16. Nariši položaj Sonca,**

ko je polna luna;



ko je mlaj.



2 točki

**17. Kdaj praznujemo? Poveži.**

DAN REFORMACIJE  
PREŠERNOV DAN  
DAN DRŽAVNOSTI

8. februar  
31. oktober  
25. junij

3 točke