



# ŠOLSKO TEKMOVANJE

NALOGE ZA 6. RAZRED

Ime in priimek:

---

Osnovna šola:

---

---

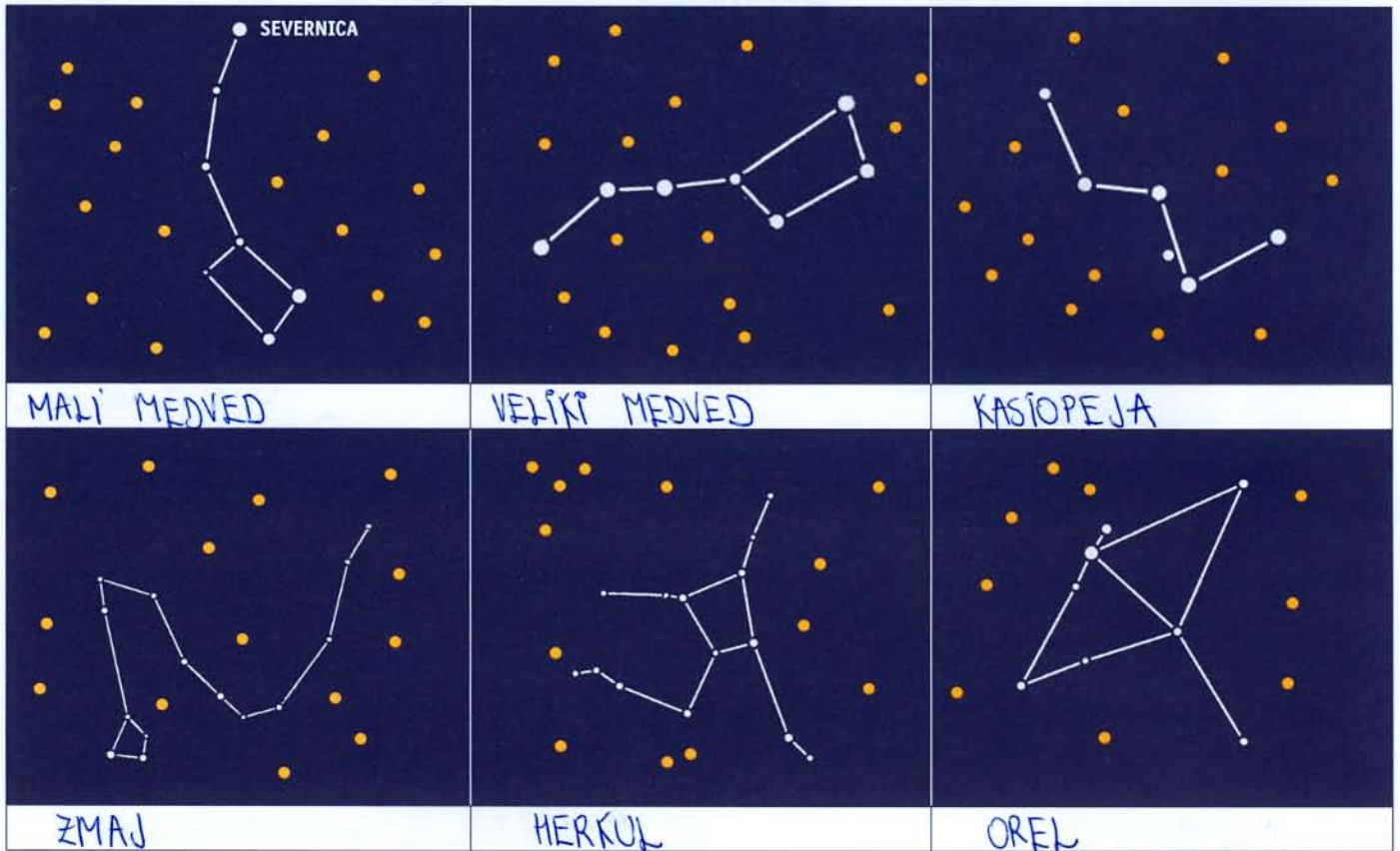
Mentor:

---



1. Če se v jasni noči ozremo v nebo, lahko vidimo več ozvezdij. Kako dobro poznaš ozvezdja? Pod ilustracijo posameznega ozvezdja napiši njegovo ime. Vsak pravilen zapis ti prinese eno točko.

POMOČ: Na ilustracijah so ozvezdja: Herkul, Kasiopeja, Orel, Veliki medved, Mali medved, Zmaj



16

2. Katera ptica ujeta je na fotografiji? Vsak pravilen zapis na črto pod fotografijo ti prinese eno točko.

POMOČ: Na fotografijah so naslednje ptice: kanja, postovka, beloglavi jastreb, kragulj, planinski orel, sokol selec



16

3. V National Geographic Juniorju velikokrat pišemo o naravnih in kulturnih znamenitostih sveta. Reši spodnjo križanko tako, da napišeš državo, v kateri se nahaja znamenitost. Vsak pravilen zapis v križanki ti prinese eno točko. Tudi izpisano geslo ti prinese dodatno točko.

1. Nebeško svetišče je v državi z najdaljšim zidom na svetu. To je ...
2. Uluru ali Ayersova skala je v državi, ki se imenuje ...
3. Oxpemul je nekdanje majevsko mesto, ki ga je ponovno odkril dr. Ivan Šprajc. Je v današnji državi z nazivom ...
4. Modra mošeja je v državi, kjer so Pamukkale – znamenite naravne apnenčaste strukture. Ta država je ...
5. Petra ni samo žensko ime, ampak je tudi ime arhitekturnega objekta, izklesanega v skalo. Je v državi ...
6. Letos bo izbor pesmi Evrovizije v glavnem mestu iskane države. Ta država je ...
7. Stonehenge je v državi z uradnim imenom



- Velike Britanije in Severne Irske.
8. Kip svobode je eden najznačilnejših simbolov države z dolgim nazivom Združene države \_\_\_\_\_.
  9. Kivi je poleg sadeža ptič, ki živi samo v eni državi na svetu. Ta država je ...
  10. Keopsova piramida je v državi, ki se imenuje ...
  11. Moskovski Kremelj je uradna rezidenca predsednika iskane države.
  12. Partenon je svetišče, posvečeno boginji Ateni. Je v državi z imenom ...
  13. Tadž Mahal je mavzolej iz belega marmorja. Je v državi z imenom ...
  14. Najvišji nebotičnik Burj Kalifa so za turiste odprli letošnje leto. Je v državi z imenom Združeni \_\_\_\_\_.
  15. Inkovsko mesto Machu Picchu je v Južni Ameriki v državi z imenom ...

Geslo: SVETOVNE ZGRADBE

/16

4. V mreži črk poišči 10 velikih mačk in jih izpiši na pripravljeno črto. Išči v vse smeri. Vsak pravilen zapis ti prinese eno točko.



OZELOT, KARAKAL, TIGER,

GEPARD, SERVAL, RIS,

PUMA, LEOPARD,

LEV, JAGUAR

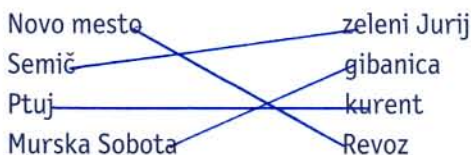
/10

5. Kaj je značilno za metulje? Obkroži pravilne trditve. Vsaka pravilna rešitev ti prinese eno točko, vsaka napačna pa odbije eno točko.

- a) Metulj ima 5 parov nog.
- b) Metulji niso sposobni preleteti dolgih razdalj.
- c) Okušalne brbončice imajo metulji na nogah.
- d) Metulj s cvetnim prahom oplodi cvetico, ko se usede nanjo.
- e) Na svetu je 253 vrst metuljev.
- f) Nekatere vrste metuljev se tako kot ptiči selivci med zimo preselijo drugam.

/3

6. Smiselno poveži! Vsaka pravilna povezava ti prinese eno točko.



/4

7. Poišči vsiljivca – prečrtaj besedo ali besedno zvezo, ki ne sodi med ostale! Vsaka pravilno prečrtana beseda ali besedna zveza ti prinese eno točko.

- a) Slovenske pijače: Cockta, Donat, Radenska, Jamnica  
 b) Letališča v Sloveniji: letališče Edvarda Rusjana, letališče Jožeta Pučnika, letališče Cerklje ob Krki, letališče Cerklje na Gorenjskem  
 c) Bled: kremna rezina, slap Savica, pletna, smučišče Straža  
 č) Fotografska oprema: objektiv, stativ, statve, leča

/4

8. Pravilno reši račune. Rezultati ti povejo zaporedno številko črke v slovenski abecedi. Po vrsti črke vpiši na črto, da dobiš geslo. Točke ti prinašajo tako pravilno rešeni računi kot tudi pravilno rešeno geslo.

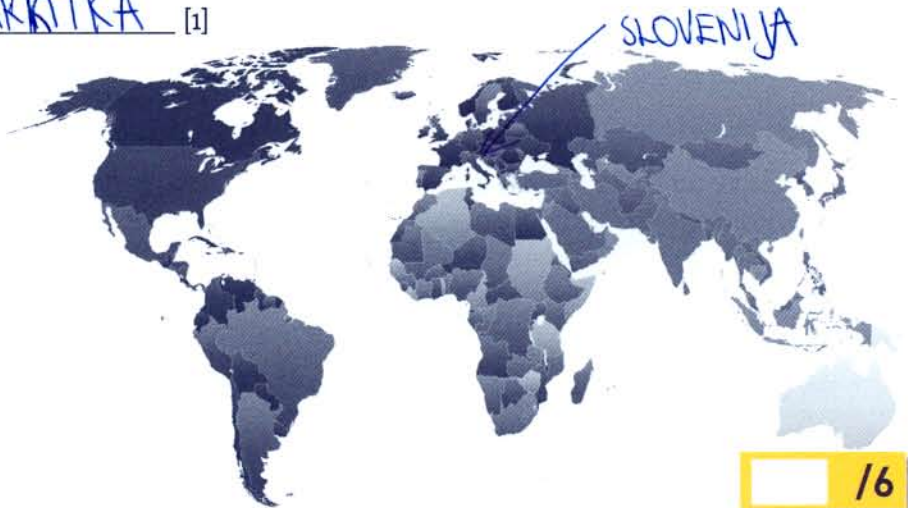
- a)  $850 - 365 - 472 = 13 = L$   
 b)  $7 \cdot 3 - 20 = 1 = A$   
 c)  $56 : 28 = 2 = B$   
 č)  $3 + 78 - 65 = 16 = O$   
 d)  $(25 \cdot 3) : 15 = 5 = D$

Geslo: LABOD

/6

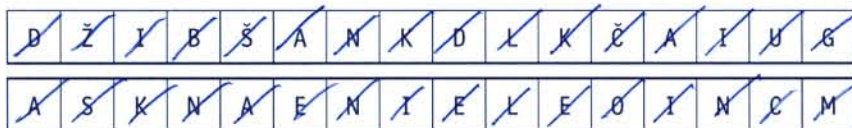
9. Dobro si oglej zemljevid in odgovori na vprašanja oziroma reši naloge! Koliko točk ti prinese posamezno vprašanje, imaš zapisano zraven vprašanja.

- a) Kaj prikazuje zemljevid? SVET [1] možno tudi: ZEMLJO, KONTINENTE, CELINE  
 b) Napiši število celin na zemljevidu! 6 [1]  
 c) Ali obstaja še kakšna celina, ki je ta zemljevid ne prikazuje? DA [1]  
 Če obstaja, napiši njeno ime! ANTARKTIKA [1]  
 č) Na kateri celini je Slovenija?  
 EVROPA [1]  
 d) Na zemljevidu s puščico označi lego Slovenije! [1]



/6

10. Spodaj imaš črke. Iz njih sestavi imena gliv oziroma gob (tako užitnih kot strupenih). Imena so lahko v vseh številih in sklonih. Ko črko uporabiš, je ne moreš več uporabiti – zato je morda dobro, da si sproti črtaš porabljene črke. Vsaka porabljena črka v pravilnem zapisu imena ti prinese 1/4 točke.



GOBAN, LISIČKA, LEDENKA,  
 JEŽNIK, MUŠNICA  
 \* lahko tudi kakšna druga goba

/8

JE ŠLO? DRŽIM PESTI, DA SE VIDIVA V FINALU!



JEZEK  
 iz Ljubljanskih mlekarn